

**Wirtschaftsschule KV Chur**  
**LÖSUNGEN**  
**Berufsmaturaprüfung 2006**

**Volkswirtschaft, Betriebs- und Rechtskunde Serie 1**

---

**Zeit**            90 Minuten

**Hinweis**        Die Benützung eines netzunabhängigen Taschenrechners sowie von OR und ZGB sind erlaubt.

Kandidatennummer    \_\_\_\_\_

Name                    \_\_\_\_\_

Vorname                \_\_\_\_\_

<b>Bewertung</b>	Aufgabe 1	12 Punkte	_____
	Aufgabe 2	10 Punkte	_____
	Aufgabe 3	10 Punkte	_____
	Aufgabe 4	31 Punkte	_____
	Aufgabe 5	14 Punkte	_____
	Aufgabe 6	11 Punkte	_____
	Aufgabe 7	<u>12 Punkte</u>	_____
	Total	100 Punkte	_____
		Note	_____

Die Experten                    \_\_\_\_\_

### Aufgabe 1 (12 Punkte)

Wie heisst der Fachausdruck für die folgenden Umschreibungen? (je 2 Punkte)

- a) Darlehen, welches die Bank gegen Verpfändung einer Liegenschaft zu einem für die ganze Laufzeit fixen Zinssatz gewährt.

\_\_\_\_\_ Festhypothek \_\_\_\_\_

- b) Vertragsbusse, welche bei Nichteinhaltung eines Vertrages fällig wird.

\_\_\_\_\_ Konventionalstrafe \_\_\_\_\_

- c) Quellensteuer auf Kapitalerträgen und Lottogewinnen.

\_\_\_\_\_ Verrechnungssteuer \_\_\_\_\_

- d) Konzentration auf das Kerngeschäft einer Unternehmung.

\_\_\_\_\_ Fokussierung \_\_\_\_\_

- e) Rechtliche Bezeichnung für die ergänzende persönliche Haftung der einzelnen Kollektivgesellschaftler.

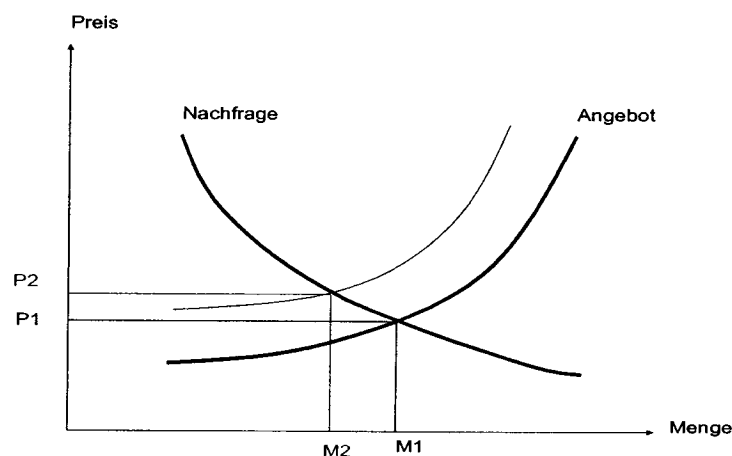
\_\_\_\_\_ subsidiäre Haftung \_\_\_\_\_

- f) Im Gesetz verwendete Bezeichnung für bewegliche Sachen.

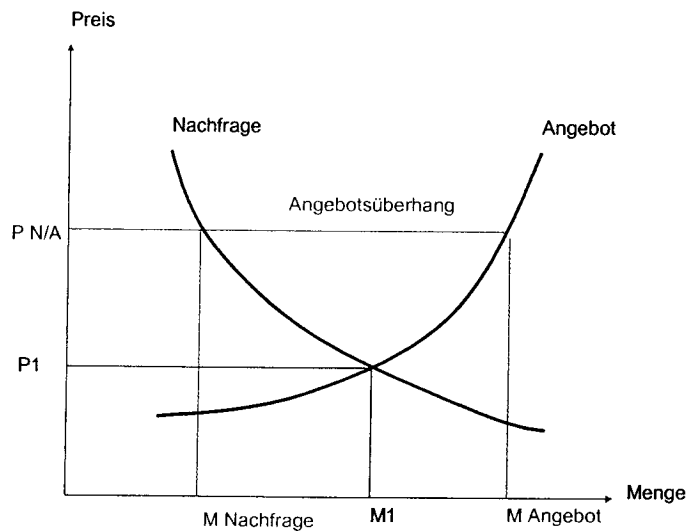
\_\_\_\_\_ Fahrnis \_\_\_\_\_

### Aufgabe 2 (10 Punkte)

- a) Durch ungewöhnliche Frosteinbrüche verzeichnete Brasilien im vergangenen Jahr eine Einbusse bei der Kaffeeernte. Zeichnen Sie die Verschiebung der Angebotskurve ein und geben Sie an, welcher Preis (P2) und welche Menge (M2) sich für Kaffee durch den Ernteausfall neu bildet. (2 Punkte)

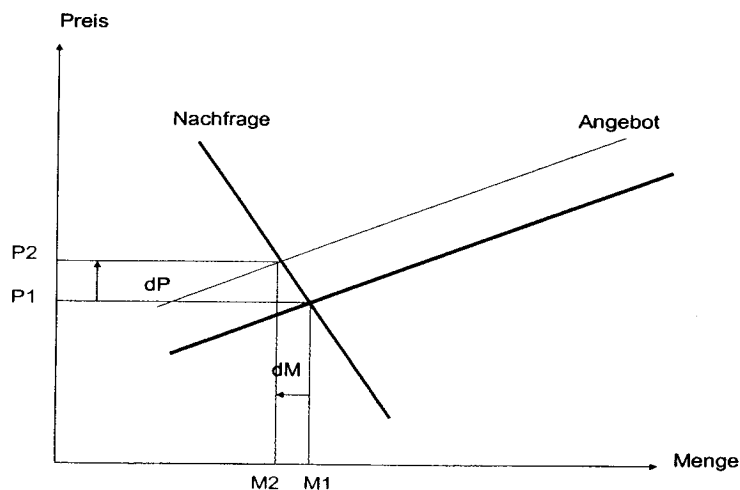


- b) Zeichnen Sie einen Angebotsüberhang ein und begründen Sie anhand des Beispiels von staatlich festgesetzten Mindestlöhnen, wie es auf einem Markt zu einem Angebotsüberhang kommen kann (2 Punkte).



*Der Staat gibt Mindestlöhne vor für alle Branchen. Dies führt dazu, dass Unternehmen Stellen nicht mehr besetzen bzw. wegrationalisieren. Es wird somit mehr Arbeit angeboten, als nachgefragt.*

- c) Die Nachfrage nach Grundnahrungsmitteln gilt als preisunelastisch. Zeichne eine preisunelastische Nachfragekurve ein und erläutere schriftlich und mit Hilfe des Diagrammes, weshalb Preisunelastizität vorliegt (2 Punkte).



*Die Nachfragekurve ist preisunelastisch, weil bei einer Preisveränderung die Mengenveränderung im Verhältnis kleiner ausfallen wird bzw. die nachgefragte Menge verändert sich weniger als der Preis.*

d) Kreuzen Sie an, wie sich die Nachfragekurve nach Carvingskis verschiebt durch die aufgeführten Marktveränderungen (4 Punkte).

	Nachfrage nach links	Nachfrage nach rechts	keine Veränderung
Einkommenserhöhungen der Arbeitnehmer	<input type="checkbox"/>	X	<input type="checkbox"/>
Die Preise für Snowboards sinken	X	<input type="checkbox"/>	<input type="checkbox"/>
Die Carvingskibindungen werden teurer	X	<input type="checkbox"/>	<input type="checkbox"/>
Fahren mit Carvingskis bereitet mehr Vergnügen als herkömmliches Skifahren	<input type="checkbox"/>	<input type="checkbox"/>	X

### Aufgabe 3 (10 Punkte)

Kreuzen Sie die richtigen Aussagen an. Bei falschen Aussagen geben Sie die korrekte Antwort an. (je 2 Punkte)

Mit dem Bruttoinlandprodukt (BIP) wird der Geldstrom einer Volkswirtschaft gemessen.

Mit dem BIP wird der Geldwert des Güterstromes gemessen, der während eines Jahres im Inland produziert wird.

Beim realen Wachstum wird nur die Entwicklung der Sachgüter und Dienstleistungen festgehalten.

..... X

Die Lorenzkurve ist die grafische Darstellung des Volkseinkommen.

Die Lorenzkurve zeigt auf, wie die Einkommen auf die Einkommensbezüger eines Landes verteilt sind.

Strukturelle Arbeitslosigkeit wird verursacht in Zeiten der Rezession, weil durch den Rückgang des Konsums und der Investitionen die Beschäftigung abnimmt.

Konjunkturelle Arbeitslosigkeit wird verursacht durch den Rückgang des Konsums   
der Investitionen. (Oder strukturelle Arbeitslosigkeit erklären)

Das Verursacherprinzip besagt, dass jenes Wirtschaftssubjekt die negativen externen Effekten zu tragen hat, das diese Kosten verursacht.

..... X

#### Aufgabe 4 (31 Punkte)

**Sachverhalt:** Das Hotel Alpenblick in Aatal verfügt über 54 Betten, daneben gehört noch ein Restaurant und ein Dancing zum Betrieb. Im Jahre 1998 haben die Brüder Hans und Erwin Albrecht das Hotel von ihrem Vater Niklaus übernommen. Sie haben sich damals für die Rechtsform der GmbH entschieden und ihren Betrieb als Albrecht GmbH ins Handelsregister eintragen lassen. Die Stammeinlage beträgt 200'000 Franken und ist je hälftig auf die beiden Brüder aufgeteilt.

##### 4.1 Fragen zur Rechtsform

- a) Nennen Sie drei rechtliche Voraussetzungen, welche es für die Gründung einer GmbH braucht! (3 Punkte)

Mind. 2 Gesellschafter, Mindestkapital 20'000  
öffentliche Beurkundung der Statuten, HR-Eintrag

- b) Im Jahr 2005 wurde in der Nachbargemeinde Burgau eine Garage Albrecht GmbH gegründet. Ist diese Firmenwahl rechtlich zulässig? Begründen Sie Ihre Antwort und geben Sie auch den betreffenden OR-Artikel an! (3 Punkte)

Ja, OR 951 (vgl. auch OR 946) sofern Firma der GmbH Personennamen enthält, gelten

Gleiche Bestimmungen wie für Einzelfirma, d.h. Schutz nur am selben Ort

- c) Erwin Albrecht arbeitet seit Ende 2004 nicht mehr im Betrieb. Er könnte seine Stammeinlage an den Hotelier Peter Bischof verkaufen. Unter welchen Voraussetzungen ist dies rechtlich zulässig? (2 Punkte)

Zustimmung v. mindestens  $\frac{3}{4}$  sämtlicher Gesellschafter, die  $\frac{3}{4}$  des Kapitals vertreten

d.h. konkret: Zustimmung von Hans Albrecht (OR 791)

##### 4.2 Bilanzanalyse

**Sachverhalt:** Im Jahre 2005 ist der Bruder Erwin aus der GmbH ausgetreten. Seine Stammeinlage wurde im Umfang von 50'000 Franken von Beatrice, der Frau von Hans Albrecht, übernommen. Weitere Fr. 30'000.- lässt Erwin auf fünf Jahre fest als Darlehen in der Unternehmung. Für die restlichen 20'000 Franken übernimmt er von der GmbH ein Geschäftsauto. Die interne Bilanz der Albrecht GmbH wies nach dieser Regelung folgende Zahlen auf:

Bilanz per 31.12.2005

Kasse	12'000.-	Kreditoren(inkl. MWSt)	52'000.-
Post	98'000.-	Bankschuld	76'000.-
Debitoren	5'000.-	Darlehen	200'000.-
Vorräte	45'000.-	Hypotheken	2'200'000.-
Immobilien	2'400'000.-	Stamm-Kapital	150'000.-
Einrichtung	100'000.-		
Fahrzeuge	18'000.-		
	2'678'000.-		2'678'000.-

- a) Berechnen und beurteilen Sie die Liquidität 2. Grades (liquide Mittel und Forderungen in Prozenten des kurzfristigen Fremdkapitals) (3 Punkte)

Berechnung:

$$\text{Quick ratio} = 115'000 * 100 / 128'000 = 89.8\%$$

Beurteilung: Zu tief, sollte mindestens 100% betragen

---

- b) Wie hat sich der Austritt von Erwin Albrecht und die im Sachverhalt geschilderte Abgeltung seines Stammanteils auf die folgenden Kennzahlen ausgewirkt? (je 2 Punkte)

b<sub>1</sub>) Eigenfinanzierungsgrad (Eigenkapital in Prozenten des Gesamtkapitals)

nimmt zu

nimmt ab weil ... \_\_EK hat mehr als Ges.-Kap. abgenommen\_\_\_\_\_

bleibt gleich

b<sub>2</sub>) Liquiditätsgrad 1 (liquide Mittel in Prozenten des kurzfristigen Fremdkapitals)

nimmt zu

nimmt ab weil ... \_\_liq.Mittel und kf. FK bleiben gleich\_\_\_\_\_

bleibt gleich

b<sub>3</sub>) Anlagedeckungsgrad II (Eigenkapital und langfristiges Fremdkapital in Prozenten des Anlagevermögens)

nimmt zu

nimmt ab weil ... \_\_sich Rückgang bei AV prozentual stärker auswirkte\_\_\_\_\_

bleibt gleich

- 4.3 **Sachverhalt:** Hans Albrecht, der in seinem Betrieb unter anderem auch für den Einkauf verantwortlich zeichnet, war am 23. März 2006 gerade mit der Vorbereitung des Mittagessens beschäftigt als er Besuch von einem Vertreter der Pro Vino AG in Luzern erhielt. Er unterschrieb dabei eine Bestellung für 60 Flaschen eines erlesenen Bordeaux-Weines zu Fr. 75.- je Flasche. Am Nachmittag stellt er bei einem Gang in den Weinkeller fest, dass er noch 56 Flaschen dieses Weins vorrätig hat.

- a) Wo ist Erfüllungsort für den Wein, wenn im Vertrag nichts abgemacht wurde?(2 Pte.)

Luzern (Gattungsware)

---

- b) Hans Albrecht teilt der Pro Vino AG am 25. März 2006 mit eingeschriebenem Brief mit, dass er gemäss OR 40a ff vom Vertrag zurücktrete. Ist dies rechtlich möglich? Begründen Sie Ihre Antwort! (3 Punkte)

Gem. OR 40a Abs. 1 sind diese Bestimmungen nur für Sachen anwendbar, die

---

für den persönlichen oder familiären Gebrauch des Kunden bestimmt sind

---

Dies ist hier nicht der Fall, also besteht kein Rücktrittsrecht!

---

- c) Als die Weinlieferung nach zwei Wochen trotzdem eintrifft, weigert sich Hans Albrecht diese anzunehmen. Wie soll die Pro Vino AG weiter vorgehen? Geben Sie auch den betreffenden OR-Artikel an. (3 Punkte)

OR 92, Schuldner kann Ware in einem Lagerhaus auf Kosten des Gläubigers

hinterlegen, da Pro Vino AG nun erfüllt hat, kann sie Bezahlung verlangen

**4.4 Sachverhalt:** Anita Derungs arbeitet bereits seit drei Jahren als Serviceangestellte im Alpenblick. In ihrem schriftlichen Arbeitsvertrag sind keine vom Gesetz abweichenden Bestimmungen.

- a) Neben dem OR gibt es noch weitere allgemeingültige Bestimmungen zum Arbeitsrecht. Nennen Sie zwei weitere Rechtsquellen! (2 Punkte)

Arbeitsgesetz, GAV

- b) Anita Derungs hat am 5. April 2006 ihren Arbeitsvertrag gekündigt. Wann endigt ihr Arbeitsverhältnis mit der Albrecht GmbH nach Gesetz? (2 Punkte)

30. Juni 2006

- c) Am 10. Mai steht nach einem Arztbesuch fest, dass Anita Derungs im zweiten Monat schwanger ist. Nun möchte sie ihren Arbeitsvertrag trotzdem nicht auflösen. Kann sie sich auf den Kündigungsschutz gemäss OR berufen? Begründen Sie Ihre Antwort! (2 Punkte)

Nein, OR 336 c gilt nur bei einer Kündigung durch den Arbeitgeber

#### **Aufgabe 5 (14 Punkte)**



give up bad design for good

Seit Anfang September 2005 ist in Chur der erste BODUM® Café & Homestore in der Ostschweiz ansässig, wo sich alles um gutes Design zu erschwinglichen Preisen dreht: ganz nach der Philosophie von Jörgen Bodum: "Gutes Design muss nicht teuer sein!" Kundinnen und Kunden mit hohem ästhetischem Anspruch finden fast alles rund ums Thema Kochen und gepflegtes Essen. So zum Beispiel Kerzen, Vasen, Geschirr, Besteck, Pfannen und aussergewöhnliche Schüsseln. Es fehlen auch nicht die bekannten BODUM® Tee und Kaffeekannen und das über 100 verschiedene Sorten aufweisende Angebot an Tee. Die trendige, kleine Bar im Parterre ist bereits jetzt ein beliebter Treffpunkt für Freunde von gutem Kaffee und Tee.

printed by [www.klv.ch](http://www.klv.ch)

Publiziert mit Bewilligung der kantonalen Prüfungsleitung. Eine kommerzielle Verwendung dieser Prüfungsaufgaben bedarf der Bewilligung der Autorinnen und Autoren bzw. der kantonalen Prüfungsleitung.

- a) Unternehmungen müssen bei ihren täglichen Entscheidungen viele verschiedenste Wechselwirkungen innerhalb und ausserhalb der Unternehmung beachten. Als bekanntes Hilfsmittel wird das Unternehmungsmodell eingesetzt und gliedert sich in drei Bereiche. Erläutere die Funktion dieser drei Bereiche in Bezug auf die tägliche Entscheidungsfindung der Unternehmungen (3 Punkte).

**Umweltsphären (1 Punkt):**

Die Umweltsphären zeigen bedeutsame Vorgänge ausserhalb der Unternehmung im technologischen, sozialen, ökonomischen, ökologischen und rechtlichen Umfeld auf. Die Unternehmung muss die Vorgänge in ihrem Umfeld beobachten, um bei möglichen Veränderungen notwendige Anpassungen frühzeitig vornehmen zu können (indirekte Wirkungsweise auf Unternehmung)

**Anspruchsgruppen (1 Punkt):**

Das Aufzeichnen der vielfältigen Beziehungen, die eine Unternehmung zu unterschiedlichen Gruppen pflegt, hilft bei der Entscheidungsfindungen. Die Gruppen haben ihre Erwartungen und Forderungen gegenüber der Unternehmung, die wahrgenommen und abgewägt werden müssen, damit mögliche Konflikte vermieden werden können (Direkte Wirkungsweise auf die Unternehmung)

**Unternehmungsvision/-strategie/-konzept/Leitbild (1 Punkt):**

Die Informationen aus den beiden anderen Bereichen fliessen in diesen Bereich ein und führen zu konkreten Entscheidungen betreffend der Unternehmensvision, -ziele, -mittel und -verfahren. Mit dem Leitbild werden die Grundideen und -werte der Unternehmung wieder nach aussen kommuniziert.

- b) Nenne einen möglichen konkreten Einfluss aus der ökologischen Umweltsphäre, die das obenerwähnte Haushaltgeschäft beachten sollte (1 Punkt)

Nachhaltige Anbauweise für Tee erhöht Preis (Max Havelaar), Frost/Dürre führen zu Verknappung des Angebots usw. .

- c) Im Unternehmungskonzept werden die Ziele, Mittel und Verfahren für die Bereiche Leistung, Finanzen und Soziales erarbeitet. Erstellen Sie ein konkretes Leistungskonzept für das Haushaltgeschäft (6 Punkte).

	<b>Leistungskonzept</b>
<b>Ziele (2 Punkte)</b>	<p><b>Bedürfnisse:</b> Wunsch nach ästhetisch schön gestalteten Gebrauchsgüter, guter Beratung</p> <p><b>Produkte/Dienstleistungen:</b></p> <ul style="list-style-type: none"> <li>• Qualitativ hochwertige Haushaltartikel mit speziellem Design</li> <li>• Bar, wo ausgewählte Haushaltartikel (Tassen, Kannen) zum Einsatz kommen</li> <li>• Kompetente Beratung</li> <li>Etc.</li> </ul>
<b>Mittel (2 Punkte)</b>	<p><b>Personal:</b></p> <ul style="list-style-type: none"> <li>• gut ausgebildetes Verkaufspersonal</li> <li>• z.B 4 festangestellte Mitarbeiter und 2 TeilzeitmitarbeiterInnen</li> </ul> <p><b>Betriebsmittel:</b></p> <ul style="list-style-type: none"> <li>• gemietetes Ladenlokal in der Altstadt von Chur</li> <li>• Mobiliar (Ladengestelle, Bareinrichtung, Lagerraum, elektronische Kasse, Dekorationsmaterial, Geschäftsfahrzeug, etc.)</li> </ul>

<b>Verfahren (2 Punkte)</b>	<p><b>Entwicklung/Produktion:</b> Mit der Entwicklung/Produktion von neuen Produkten selbst ist das Fachgeschäft nicht befasst, aber es lässt seine Lieferanten Kundenwünsche zukommen und besucht Messen um auf dem Laufenden zu sein.</p> <p><b>Beschaffung (Material/Mitarbeiter):</b> Die Beschaffung der Produkte erfolgt bei verschiedensten ausgewählten Lieferanten. Für die Suche nach neuen MitarbeiterInnen wird in Fachzeitschriften inseriert und im Bündner Tagblatt.</p> <p><b>Absatz:</b> Das Fachgeschäft verfügt über ein Marketingkonzept, das Erfolg verspricht.</p>
---------------------------------	--

d) Kreuzen Sie die richtigen Aussagen an. Bei falschen Aussagen geben Sie die korrekte Antwort an (4 Punkte)

Die Leitidee „give up a bad design for a good“ ist Bestandteil des Leitbildes des Haushaltgeschäftes.

..... X

In einer Unternehmungsstrategie werden die Ziele für die langfristige Entwicklung der Unternehmung ausschliesslich im Leistungsbereich festgehalten.

Auch im Finanz- und Sozialbereich .....

Das Leitbild ist ein vertrauliches Dokument und enthält Zielformulierungen der Unternehmungsstrategie in allgemeiner Form

Ein Leitbild ist ein Dokument für die Öffentlichkeit ( z.B. Publikation auf der Homepage).....

Die Unternehmung können nicht in allen Bereichen die an sie gestellten Ansprüche maximal erreichen. Die eigenen Ziele müssen aufeinander abgestimmt werden.

..... X

**Aufgabe 6 (11 Punkte)**

**Sachverhalt:** Kevin Meier (24) aus Chur hat vor fünf Jahren bei einer führenden Schweizer Versicherung für sein Auto die obligatorische Motorfahrzeughaftpflichtversicherung sowie eine Teilkaskoversicherung abgeschlossen.

Für die Motorfahrzeughaftpflichtversicherung gilt folgende Prämienskala:

Prämienstufe	Prämie in % der Grundprämie	Prämienstufe	Prämie in % der Grundprämie	Prämienstufe	Prämie in % der Grundprämie	Prämienstufe	Prämie in % der Grundprämie
1	40	7	70	13	120	19	200
2	45	8	75	14	130	20	215
3	50	9	80	15	140	21	230
4	55	10	90	16	155	22	250
5	60	11	100	17	170	23	270
6	65	12	110	18	185	24	300

Nach jedem unfallfreien Jahr erreicht der Versicherte die nächst tiefere Prämienstufe. Nach einem Schadenfall, für den die Gesellschaft bezahlen muss, wird der Halter um 4 Stufen höher eingestuft. Der Selbstbehalt für junge Lenker unter 25 Jahren beträgt Fr. 1'000.-.

Die Grundprämie für die Motorfahrzeughaftpflichtversicherung von Kevin Meier betrug im Abschlussjahr 2001 Fr. 1'280.- (100%).

- a) Wie nennt man das vorliegende System der Tarifgestaltung? (1 Punkt)

Bonus-/Malus-System

- b) Nennen Sie eine weitere Versicherungen, bei welcher der Versicherte ebenfalls einen Selbstbehalt zu tragen hat! (1 Punkt)

Krankenkasse, Hausratversicherung, Diebstahlversicherung usw.

- c) Wie gross ist die Jahresprämie 2006, wenn Kevin Meier bislang unfallfrei gefahren ist? (2 Punkte)

Stufe 6 -> 65 % von 1'280.- = 832.-

- d) Zu welchem Wert ist das Fahrzeug von Kevin Meier durch die Teilkasko versichert?

zum Neuwert       zum Zeitwert      (1 Punkt)

**Sachverhalt:** Am 25. April 2006 verursachte Kevin Meier einen Unfall. In Zizers übersah er einen Rechtsvortritt und kollidierte mit dem Fahrzeug der korrekt einbiegenden Frau Brunold. Dabei wurde Frau Brunold leicht verletzt und musste im Kantonsspital Chur ambulant behandelt werden (Spitalrechnung Fr. 440.-). Am Fahrzeug von Frau Brunold entstand ein Sachschaden von Fr. 2'500.-, der Schaden an Kevin Meiers Auto beträgt Fr. 1'300.-.

- e) Wer (wenn Versicherung, genaue Bezeichnung und Versicherter) übernimmt den Sachschaden am Auto von Frau Brunold? (1 Punkt)

Mfz-Haftpflicht von Kevin Meier

- f) Wer zahlt für den Personenschaden (Spitalbehandlung) von Frau Brunold? (1 Punkt)
- Mfz.-Haftpflicht von Kevin Meier
- 
- g) Wer zahlt den Sachschaden am Auto von Kevin Meier? (1 Punkt)
- er selbst (Teilkasko übernimmt keine Kollisionsschäden)
- 
- h) Wieviel wird die Prämie für die Motorfahrzeughaftpflichtversicherung für das Jahr 2007 betragen, wenn Kevin Meier den Schadensfall der Versicherung meldet?(2 Pte.)
- neu Stufe 10 -> 90% v. 1'280 = 1'152.-
- 
- i) Was spricht dagegen, dass Kevin Meier den Schaden durch die Versicherung bezahlen lässt? (1 Punkt)
- Selbstbehalt Fr. 1'000.- u. Bonusverlust (er zahlt 10 Jahre lang zwischen 30%  
5% mehr als wenn er Bonus noch hätte)
- 

#### Aufgabe 7 (12 Punkte)

**Sachverhalt:** Im Alter von 78 Jahren verstarb in Sargans Jakob Wapp. Der Ehe mit Frieda Wapp-Senn (80) entstammen die beiden Söhne Hansjakob und Karl. Aus der ersten Ehe von Frieda Wapp mit Leo Senn stammt die Tochter Margarethe. Hansjakob Wapp ist bereits vor fünf Jahren bei einem Bergunfall gestorben. Er hinterliess seine Frau Martha sowie den mittlerweile 30jährigen Sohn Patrick. Karl Wapp ist verheiratet mit Verena und Vater der beiden Töchter Yvonne und Gabriela. Da Patrick Wapp vor kurzem ein eigenes Geschäft eröffnet hat, und auf das Geld seines Grossvaters angewiesen ist, wird die Erbschaft verteilt. Weil kein Testament vorhanden ist, wird die güterrechtliche und die erbrechtliche Teilung des Vermögens durch Karl Wapp, der ein Treuhandbüro betreibt, nach Gesetz vorgenommen. Nach Abzug der Todesfallkosten von Fr. 24'000.-, die aus dem Nachlass des Verstorbenen bezahlt worden sind, erhielt Patrick Wapp Fr. 72'000.- .

- a) Wieviele Franken betrug der Nettonachlass (nach Bezahlung der Todesfallkosten) des verstorbenen Jakob Wapp? (3 Punkte)

überlebende Ehegattin erbt  $\frac{1}{2}$  der Erbschaft  
 die beiden Söhne erhalten je  $\frac{1}{4}$  der Erbschaft  
 anstelle von Hansjakob tritt dessen Sohn Patrick mit  $\frac{1}{4}$  = Fr. 72'000.-  
 die gesamte Erbschaft (=Nettonachlass) betrug  $\frac{4}{4}$  = Fr. 288'000.-

- b) Wieviel haben die beiden Enkelkinder Yvonne und Gabriela geerbt? (2 Punkte)

Sie erhalten nichts, da ihr Vater Karl Wapp erbberechtigt ist!

- c) Der erbrechtlichen Teilung ist die güterrechtliche Teilung vorangegangen. Wieviel hat die gemeinsame Errungenschaft des Ehepaars Wapp betragen, wenn Aufzeichnungen über das eingebrachte Gut fehlen und von Jakob Wapp nur bekannt ist, dass er während der Ehe Fr. 90'000.- von seinem Vater geerbt hat? (5 Punkte)

Erbschaft (Nettonachlass)	Fr. 288'000.-
+ Todesfallkosten	Fr. 24'000.-
= Erbmasse brutto	Fr. 312'000.-
- Eigengut Jakob Wapp (Erbschaft)	Fr. 90'000.-
= $\frac{1}{2}$ Errungenschaft	Fr. 222'000.-

mal zwei = gemeinsame Errungenschaft = Fr. 444'000.-

- d) Jakob Wapp hätte seine Ehefrau durch ein Testament erbrechtlich begünstigen können. Welchen Anteil (Bruchteil) der Erbschaft hätte er ihr zusätzlich zu ihrem gesetzlichen Anspruch noch vermachen können? (2 Punkte)

Gesetzlicher Anspruch Nachkommen	= $\frac{4}{8}$ ( $\frac{1}{2}$ )
<u>Pflichtteil Nachkommen = <math>\frac{3}{4} * \frac{1}{2}</math></u>	= $\frac{3}{8}$
Zusätzliche freie Quote für Ehegattin	= $\frac{1}{8}$ der Erbschaft